



USJP

SLFRS 15 අයහාරය

සංදීප ජයසේකර

Co-ordinating office JMC Jayasekera Management Centre (Pvt) Ltd No 65/2A, Sir Chittampalam A Gardiner Mw, Colombo 02
Tel : 011 2 430451 | Mob : 071 488 4622, 071 415 0400 | Web : www.jmc.lk

1



SLFRS 15 ගනුදෙනුකරුවන් සමඟ ගිවිසුම්වලින් ඇතිවන අයහාරය

(01-01-2018 සිට)

Sandeepa Jayasekera - JMC

2

2

සංදීප ජයසේකර

Sandeepa - JMC



- උසස් පෙළ වාණිජ විෂය මාධ්‍යයෙන් ශ්‍රී ලංකාවේ 11 වෙනි ස්‍රේණි කොළඹ දිස්ත්‍රික්කයේ 03 වෙනි ස්‍රේණි
- ශ්‍රී ජයවර්ධනපුර විශ්වවිද්‍යාලයේ ගණකාධිකරණ පළමු පෙළ උපාධිය සහ දක්ෂතම ශිෂ්‍යයාට හිමි රන් පදක්කම
- වරලත් ගණකාධිකාරීවරයෙකු (CA Sri Lanka)
- වරලත් ගණකාධිකරණ දෙවන අදියරේ ශ්‍රී ලංකාවේ ප්‍රථම ස්‍රේණි, අවසාන අදියරේ උසස් මූල්‍ය වාර්තාකරණ විෂය න්‍යාය
- එංගලන්තයේ වරලත් කළමනාකරණ ගණකාධිකාරීවරයෙකු (CIMA-UK)
- වරලත් කළමනාකරණ ගණකාධිකාරී (CIMA-UK) අවසාන අදියරේ ශ්‍රී ලංකාවේ ප්‍රථම ස්‍රේණි සහ ලෝකයේම 11 වෙනි ස්‍රේණි

3

- ශ්‍රී ලංකා ගිණුම්කරණ ශිල්පීය ආයතනයේ (AAT Sri Lanka) සාමාජිකයෙකු
- ශ්‍රී ලංකා සහතිකලත් කළමනාකරණ ගණකාධිකාරී ආයතනයේ (CMA Sri Lanka) සාමාජිකයෙකු
- කළමනාකරණ පශ්චාත් උපාධි ආයතනයේ (PIM) කළමනාකරණ පශ්චාත් උපාධියේ අවසන් අදියර
- JMC ජයසේකර කළමනාකරණ ආයතනයේ ප්‍රධාන විධායක නිලධාරී
- JMC ජාත්‍යන්තර පාසල් ජාලයේ ප්‍රධාන නවුලේකරුවෙකු
- JMC vLearning ඒකකයේ ප්‍රාරම්භකයා
- JMC කට්ටාචාර්යවරයෙකු
- “ආවර්ජනයකට අවසරයි” නවකතාවක් ලියූ ලේඛකයෙකු
- පුහුණු සහ සංවර්ධන වැඩිමුළු, අභිප්‍රේරණ දේශන 100කට අධික ප්‍රමාණයක් තුළ දැනුම අත්දැකීම් බෙදාගන්නා දේශකයෙකු



සංදීප ජයසේකර

4



**මයා
විකුණුම්කරු
කියලා හිතන්න!**

5

DSI

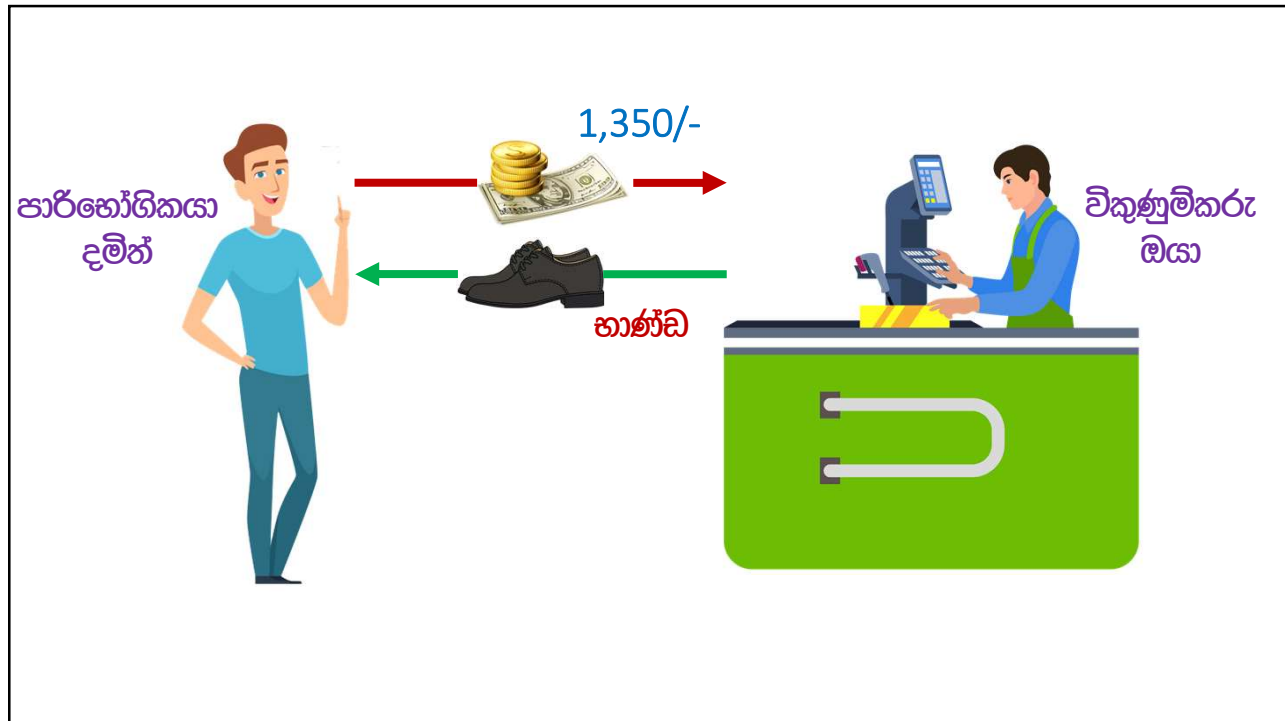
කොහොමද මන් සපයන්නේ?

1,500/-
10% වට්ටම

මේ ඉන්න දමන්න

© Jayasekera - JMC

6




7


DSI එක විකුණුම් ආදායම හඳුනාගන්න ඕනි කොයි වෙලේද?

- A සපත්තු තේරුවා 10.15 වෙද්දි
- B ඉන්වොයිස් එක දැමිමා 10.16 වෙද්දි
- C සල්ලි ගෙව්වා 10.17ට
- D සපත්තු ටික අතට හම්බවුණා 10.18ට

8



9



10


DSI එක විකුණුම් ආදායම හඳුනාගන්න ඕනි කීයටද?

A සපත්තු තේරවා 10.15 වෙද්දි

B ඉන්වොයිස් එක දැමීමා 10.16 වෙද්දි

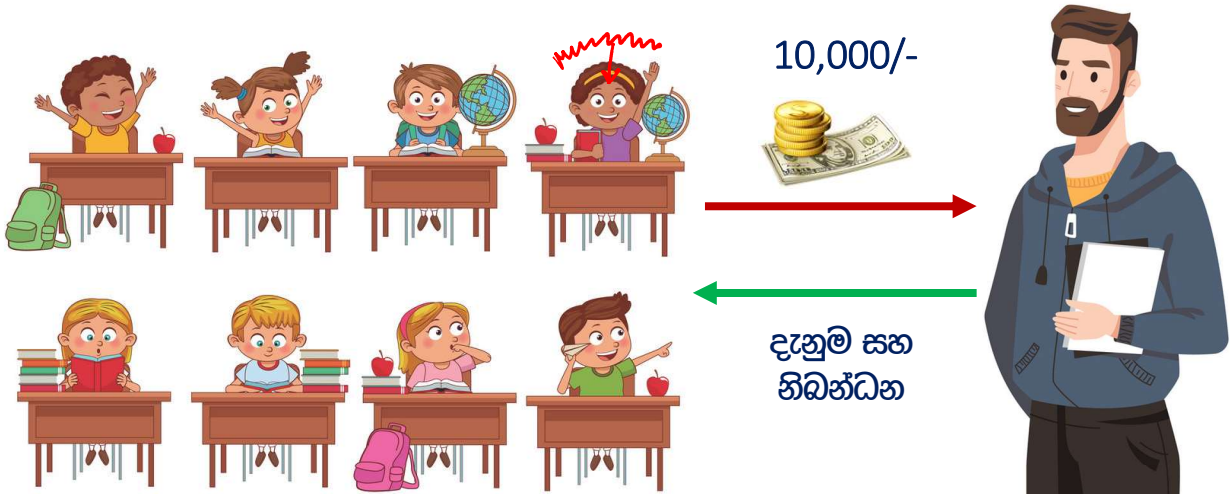
C සල්ලි ගෙව්වා 10.17ට

D සපත්තු ටික අතට තම්බවුණා 10.18ට



11


මාස 2ක් පුරාවට උගන්වනවා නම් ආදායම හඳුනාගන්න ඕනි කොයි වෙලේද?



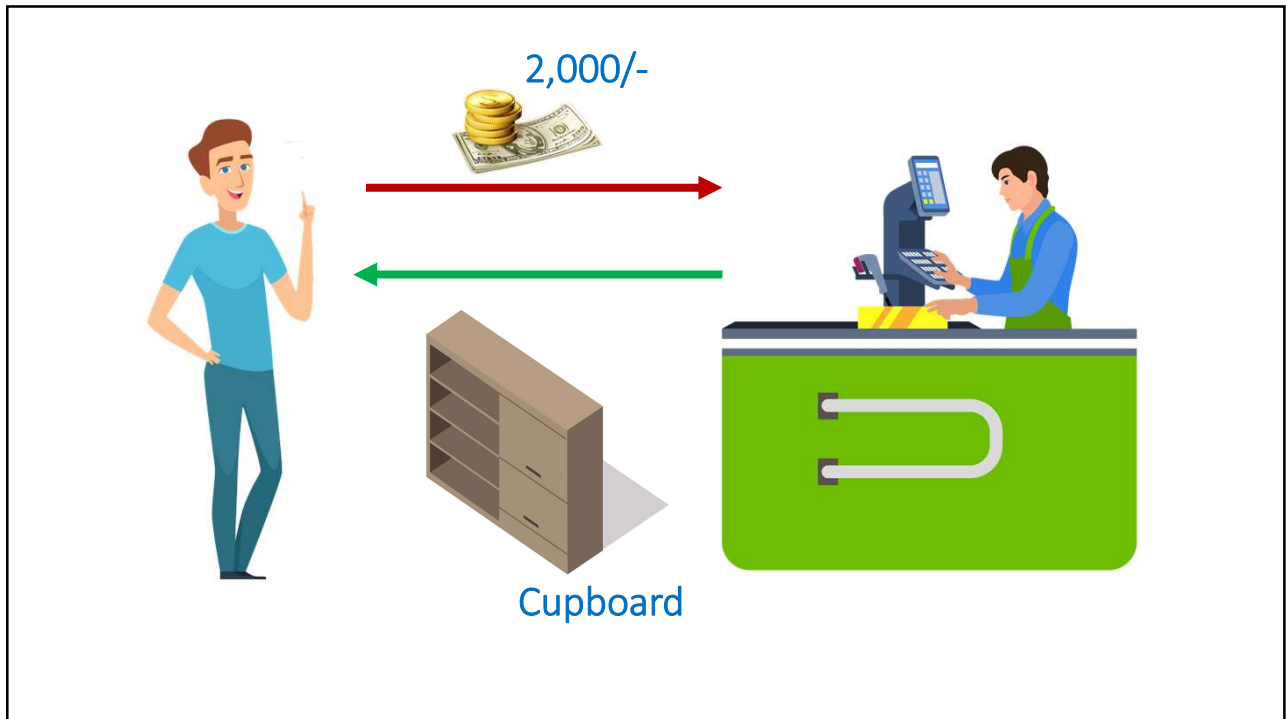
10,000/-

දැනුම සහ නිබන්ධන

12



13



14



15



16

ආදායම හඳුනාගැනීම


පියවර 05 ආකෘතිය

Sandeepa Jayasekera - JMC

17

17

18



19



20



21

පියවර 01

ගනුදෙනුකරු සමග ඇති ගිවිසුම් හඳුනාගැනීම

Sandeepa Jayasekera - JMC

22

ගිවිසුම හඳුනාගැනීමට සම්පූර්ණ විය යුතු නිර්ණායක	වාණිජමය හරය	ගිවිසුම නිසා අනාගත මුදල්, අවදානම් වෙනස්වීම	
	අනුමත වීම	ලිඛිතව වාචිකව ව්‍යංගයෙන්	
	පාර්ශවයන්ගේ අයිතීන්	විකුණුම්කරු පාරිභෝගිකයා	මුදල් භාණ්ඩ සේවා
	ගෙවීම් කොන්දේසි	ගෙවන වේලාව වාරික දඩ හෝ දිරිදීමනා	
	අය කරගැනීමේ හැකියාව		

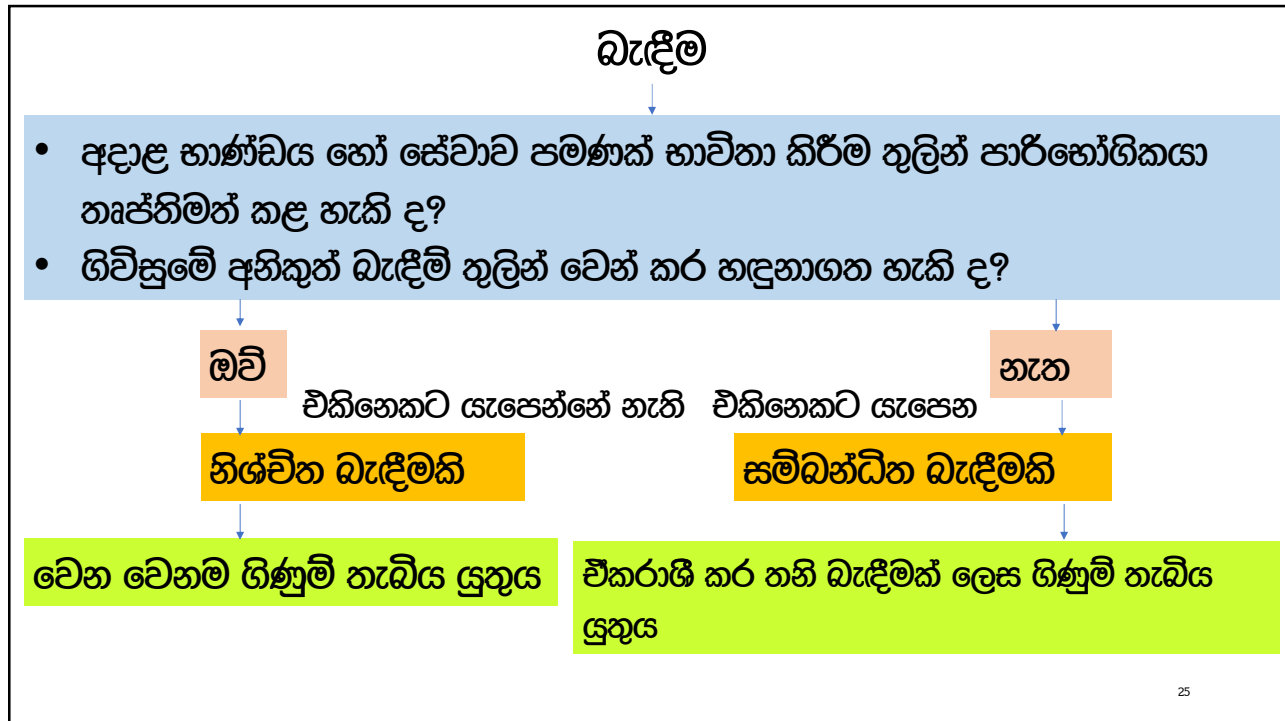
23

පියවර 2

**සොරොන්දු වූ
භාණ්ඩ හෝ සේවාවන් හඳුනාගැනීම**

Sandeepa Jayasekera - JMC

24



25

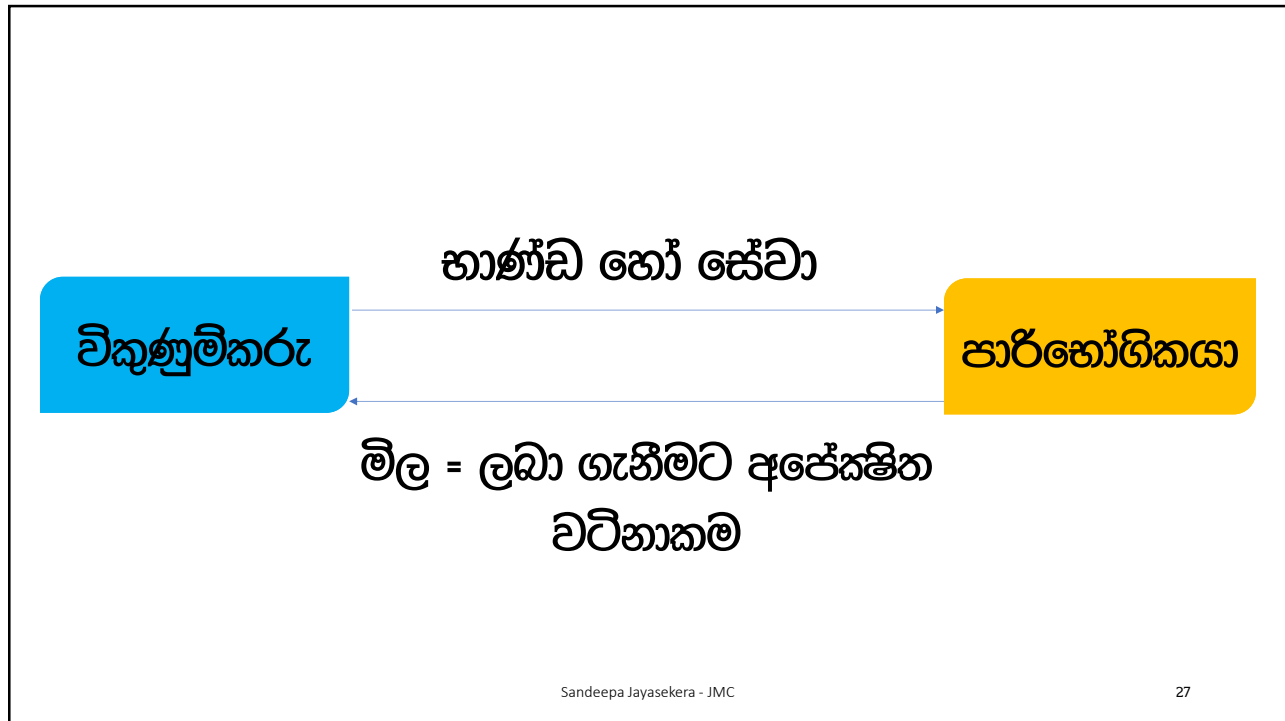
පියවර 3

ගනුදෙනුවෙහි මිල තීරණය කිරීම

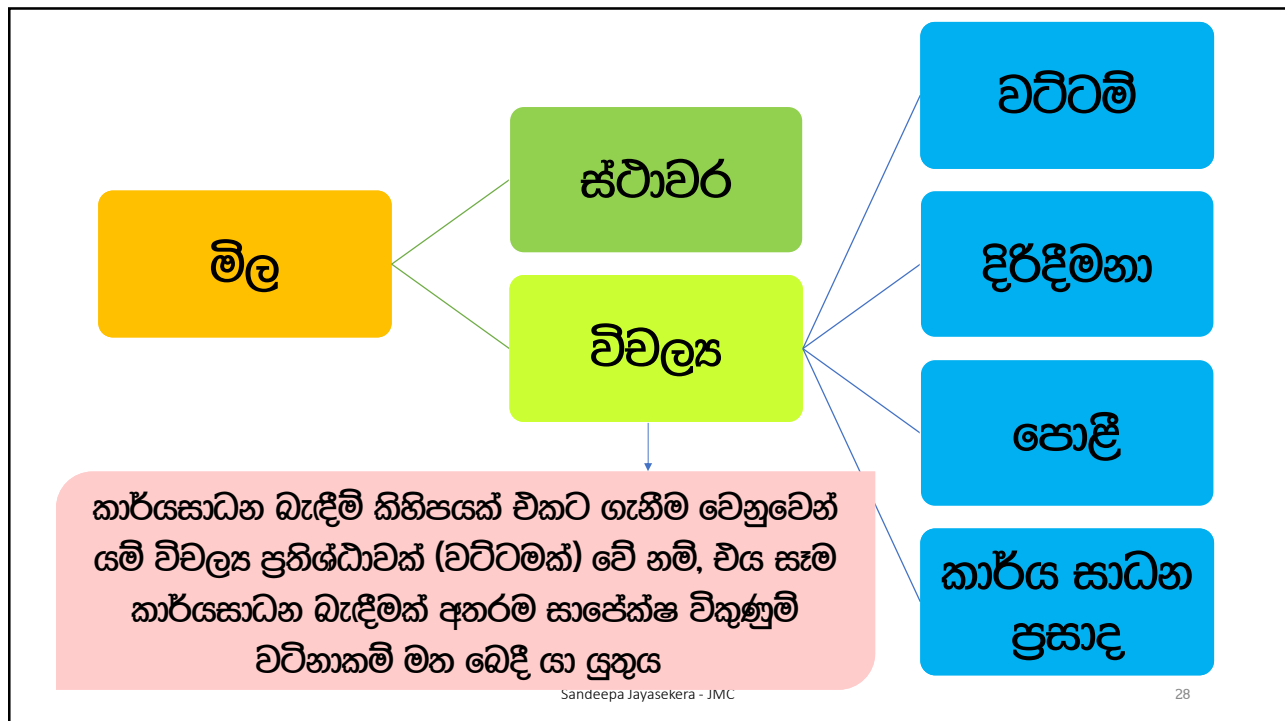
Sandeepa Jayasekera - JMC

26

26



27



28

පියවර 4

ගනුදෙනුවෙහි මිල කාර්යසාධන බැඳීමිචලට බෙදා වෙන් කිරීම

උසස් පෙළ සඳහා මෙම කොටස අදාළ නොවන අතර
භාණ්ඩ අතර මිල ගණන් බෙදා දෙනු ඇත

Sandeepa Jayasekera - JMC

29

29

පියවර 5

කාර්යසාධන බැඳීම තෘප්තිමත් වූ පසු අයහාරය හඳුනා ගැනීම

Sandeepa Jayasekera - JMC

30

30

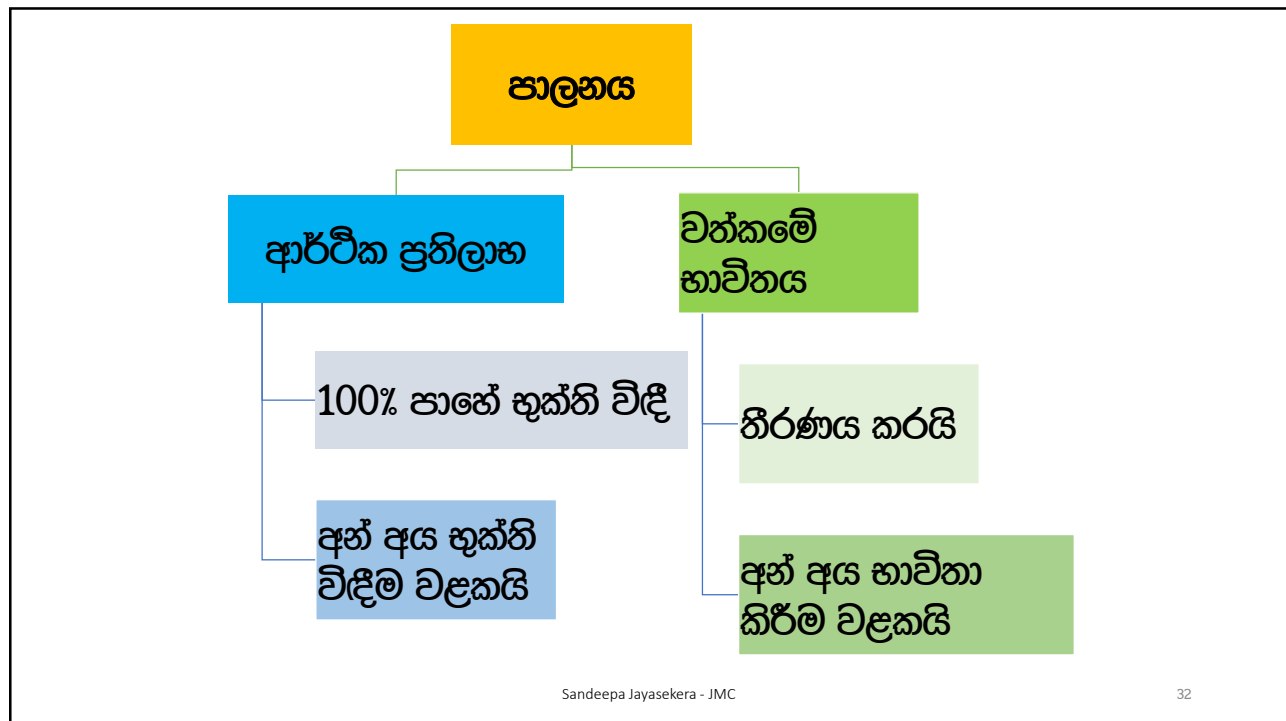
ආදායම හඳුනාගත යුත්තේ කුමන අවස්ථාවේද?



Sandeepa Jayasekera - JMC

31

31



Sandeepa Jayasekera - JMC

32

32

පාලනය මාරු වීම	නිශ්චිත මොහොතක	භෞතික සන්නකය මාරු වීම
		පාරිභෝගිකයා වත්කම පිළිගෙන තිබීම
		අවදානම් සහ ප්‍රතිලාභ මාරු වීම
		තෛතික අයිතිය මාරු වීම
	කාලයක් පුරාවට	භාණ්ඩ/සේවා ලබා දීම සහ පරිභෝජනය එකවර සිදුවීම
		වත්කම පාරිභෝගිකයාගේ පාලනය තුළ පැවතීම
විකල්ප භාවිත නොමැති වීම සහ ගෙවීම් ලබාගැනීමට අයිතියක් පැවතීම		
Sandeepa Jayasekera - JMC		33

33

ප්‍රශ්න 01

- DSI සමාගම පාසල් පාවහන් විකිණීමේ නියැලී සිටී 2020/10/31 වන දින DSI සමාගම විසින් රු. 1,500 ක් වටිනා පාසල් පාවහන් යුගලයක් විකුණන ලදී.
- මෙම ගනුදෙනුවට අදාළ කාර්යසාධන බැඳීම සහ ආදායම හඳුනාගත යුතු ආකාරය පැහැදිලි කරන්න.

Sandeepa Jayasekera - JMC

34

පිළිතුරු 01

කාර්යසාධන බැඳීම්	මිල	අයහාරය හඳුනාගැනීම

Sandeepa Jayasekera - JMC

35

35

ප්‍රශ්න 02

- ගුරුවරයෙකු සිය දේශණයක් සඳහා පැය දෙකක කාලයකට රු 10,000ක් අය කරයි එම දේශණයට අමතරව නිබන්ධනයක් ලබා දේ එම ආදායම හඳුනාගත යුතු ආකාරය පැහැදිලි කරන්න

Sandeepa Jayasekera - JMC

36

36

පිළිතුරු 02

කාර්යසාධන බැඳීම්	මිල	අයහාරය හඳුනාගැනීම

Sandeepa Jayasekera - JMC

37

37

ප්‍රශ්න 03

අමල් සමාගම වායුසම්කරණ යන්ත්‍ර විකිණීමේ නිරතව සිටී. 2021/01/01 වන දින රු 500,000/-ක් වටිනා වායුසම්කරණ යන්ත්‍රයක් විකුණන ලද අතර, එය ස්ථාපනය කර දීමට ද අතිරේකව චිකාගවිය. ඒ සඳහා රු 10,000/-ක් අය කරන ලදී.

- ඉහත ගනුදෙනුවට අදාළව කාර්යසාධන බැඳීම් හඳුනාගන්න
- එම බැඳීම් නිශ්චිත බැඳීම් ද සම්බන්ධිත බැඳීම් ද යන්න පැහැදිලි කරන්න

Sandeepa Jayasekera - JMC

38

38

පිළිතුරු 03

බැඳීම	කාර්යසාධන බැඳීම	මිල	අයහාරය හඳුනාගැනීම
නිශ්චිත බැඳීම			
සම්බන්ධිත බැඳීම			

Sandeepa Jayasekera - JMC

39

39

ප්‍රශ්න 04

වසන්ත සමාගම පරිගණක විකිණීමේ නියැලී සිටී. 2020/03/01 දින පරිගණක අලෙවි ගනුදෙනුවකට චිලැඹි අතර ඒ අනුව රු 1,000,000/- වටිනා පරිගණක දෘඩාංග විකිණීමටත්, රු 400,000ක වටිනාකමින් යුතු මෙහෙයුම් මෘදුකාංගයන් පරිගණක වෙත ස්ථාපනය කිරීමටත්, රු 100,000/-ක් අය කර වසරක් නඩත්තු කරදීමටත් එකඟ විය.

- ඉහත ගනුදෙනුවට අදාළව කාර්යසාධන බැඳීම් හඳුනාගන්න
- එම බැඳීම් නිශ්චිත බැඳීම් ද සම්බන්ධිත බැඳීම් ද යන්න පැහැදිලි කරන්න
- මෙම ආදායම් හඳුනාගත යුතු ආකාරය පැහැදිලි කරන්න

Sandeepa Jayasekera - JMC

40

40

පිළිතුරු 04

බැඳීම	කාර්යසාධන බැඳීම	මිල	අයහාරය හඳුනාගැනීම
නිශ්චිත බැඳීම			
සම්බන්ධිත බැඳීම			

Sandeepa Jayasekera - JMC

41

41

ප්‍රශ්න 05

My Pc ආයතනය පරිගණක අලෙවියේ නියැලී සිටී. දමන් විසින් තම ව්‍යාපාරය සඳහා පරිගණක 10 ක් මිලදී ගැනීම සඳහා My Pc ආයතනය සමඟ ගිවිසුමකට එළඹීයේය. එම ගිවිසුමට අනුව My Pc ආයතනය විසින් වසරක නඩත්තු කාලයක් සඳහා එකඟ විය.


එක් පරිගණකයක් රු. 100,000 ක් වූ අතර නඩත්තු කාලයේ වටිනාකම රු. 250,000 ක් ද වේ. එක්වර පරිගණක 10 ක් මිලදී ගත් බැවින් රු 200,000ක වට්ටමක් ලබා දෙන ලදී.

- ඉහත ගනුදෙනුවට අදාළව කාර්ය සාධන බැඳීම හඳුනාගන්න
- නිශ්චිත බැඳීම සහ සම්බන්ධිත බැඳීම වෙන් කරගන්න
- ඒ ඒ බැඳීම් සඳහා වටිනාකම් ගණනය කරන්න
- ආදායම හඳුනාගත යුතු ආකාරය පැහැදිලි කරන්න

Sandeepa Jayasekera - JMC

42

42



43

පිළිතුරු 05

බැඳීම	කාර්යසාධන බැඳීම	මිල	අයහාරය හඳුනාගැනීම
හිඟ්වන බැඳීම			
සම්බන්ධිත බැඳීම			

Sandeepa Jayasekera - JMC 44

44

ප්‍රශ්න 06

OIT සමාගම මෘදුකාංග නිෂ්පාදනය හා අලෙවියේ නියුක්ත සමාගමකි. ඔවුන් විසින් ගිණුම්කරණ මෘදුකාංගයක් නිර්මාණය කළ අතර මෙම මෘදුකාංගය අලෙවිය සඳහා රු. 1,000,000 ක් ද වසරක සේවා කාලය සඳහා රු.500,000 ක් ද අය කරයි. අලෙවිය සහ සේවා කාලය යන දෙකම ලබාගන්නේ නම් රු.1,200,000 ක් අය කෙරේ.

- සමන් විසින් මෘදුකාංගය සහ අලෙවියෙන් පසු සේවාව යන දෙකම ලබා ගන්නා ලදී. මෙම ගණුදෙණුවට අදාළ කාර්යසාධන බැඳීම, ඒ ඒ බැඳීමේ වටිනාකම වටිනාකම සහ ආදායම හඳුනාගත යුතු ආකාරය පැහැදිලි කරන්න.

Sandeepa Jayasekera - JMC

45

45

46

පිළිතුරු 06

බැඳීම	කාර්යසාධන බැඳීම	මිල	අයහාරය හඳුනාගැනීම
හිඟ්වන බැඳීම			
සම්බන්ධිත බැඳීම			

Sandeepa Jayasekera - JMC

47

47

ප්‍රශ්න 07

JMC ආයතනය අධ්‍යාපන සේවා ලබාදීමේ නිරත වී සිටී. පහත පාඨමාලාවන් සඳහා කාර්යසාධන බැඳීම්, කාර්යසාධන බැඳීම් වල මිල ගණන් සහ ආදායම හඳුනාගත යුතු ආකාරය පැහැදිලි කරන්න.

ව්‍යාපාරික ඉංග්‍රීසි පාඨමාලාව

පාඨමාලා කාලය මාස 04 ක් වන අතර සමස්ත අය කිරීම රු. 15,000 ක් වේ. පාඨමාලාව තුළ දේශන දායකත්වය, ශාලා පහසුකම්, රු. 1,000 ක් වෙළඳපොල මිල වන නිබන්දනය, එක් දින ප්‍රායෝගික පුහුණු වැඩමුළුව, කේන්ද්‍ර වාර්තාව යනාදිය ඇතුළත් වේ. එක්දින ප්‍රායෝගික වැඩමුළුව සහ කේන්ද්‍ර වාර්තාවට පමණක් සම්බන්ධ වන්නේ නම් රු. 3,000 ක් හා රු. 4,000 ක් අය කෙරේ


වරලත් ගණකාධිකරණ පාඨමාලාව

මාසික පාඨමාලා ගාස්තුව රු. 2,500 ක් වන අතර සමස්ත පාඨමාලා කාලය මාස 06 ක් වේ. පාඨමාලා කාලය තුළ දේශන දායකත්වය, ශාලා පහසුකම් සහ නිබන්දන ලබා දීමට JMC ආයතනය කටයුතු කරයි. නිබන්දන කට්ටලය සඳහා රු. 2,000 ක පිරිවැයක් වැය වන අතර JMC ආයතනය පිරිවැය මත 15% ක ලාභ ප්‍රතිශතයක් අපේක්ෂා කරයි.

Sandeepa Jayasekera - JMC

48

48



Sandeepa Jayasekera - JMC

49

49


පිළිතුරු 07

බැඳීම	කාර්යසාධන බැඳීම	මිල	අයහාරය හඳුනාගැනීම
හිඟවන බැඳීම			
සම්බන්ධිත බැඳීම			

Sandeepa Jayasekera - JMC

50

50



51

පිළිතුරු 07

බැඳීම	කාර්යසාධන බැඳීම	මිල	අයහාරය හඳුනාගැනීම
හිඟ්වන බැඳීම			
සම්බන්ධිත බැඳීම			

Sandeepa Jayasekera - JMC 52

52

ප්‍රශ්න 08

නාමල් සමාගම මෘදුකාංග නිර්මාණයේ නියැලී සිටී. චතුර සමාගම විසින් සිය ආයතනයේ වැටුප් පිළියෙල කිරීම සඳහා මෘදුකාංගයක් නැතිමට නාමල් සමාගම සමඟ ගිවිසුමකට එළඹන ලදී. එම ගිවිසුමට අනුව මෘදුකාංගය නිර්මාණය කිරීම, දෘඩාංග මිලදී ගැනීම, සේවකයන් පුහුණු කිරීම සහ වසරක සේවා කාලයක් ලබා දීමට නාමල් සමාගම එකඟ විය.

සමස්ත මෘදුකාංග ගිවිසුමේ වටිනාකම රු. 1,000,000 ක් විය. නාමල් සමාගම මෙම සේවාවන් වෙත වෙනම ලබා දෙන්නේ නම් වෙළඳපොල මිල ගණන් පහත පරිදි වේ.

Sandeepa Jayasekera - JMC

53

53

ප්‍රශ්න 08

මෘදුකාංගය නිර්මාණය කිරීම	400,000
දෘඩාංග මිලදී ගැනීම	400,000
සේවකයන් පුහුණු කිරීම	100,000
සේවා කාලය වසරක් සඳහා	100,000

මෙම සමාගම 2021/01/01 දින මෘදුකාංගය නිර්මාණය කිරීම ආරම්භ කරන ලද අතර එය 2021/03/01 දින වන විට අවසන් විය. 2021/03/05 වන දින දෘඩාංග මිලදී ගත් අතර මෘදුකාංග ඇතුළත් කරන ලද දෘඩාංගයක් 2021/03/15 වන දින චතුර සමාගමේ කාර්යාලය තුළ ස්ථාපනය කරන ලදී. එදින සිට පුරා සතියක් සේවකයන් පුහුණු කළ අතර 2021/03/22 සිට 2022/03/22 තෙක් වසරක කාලය සඳහා සේවා පහසුකම් ලබා දීමට එකඟ වන ලදී. කාර්යසාධන බැඳීම්, කාර්යසාධන බැඳීම් වල මිල ගණන් සහ ආදායම හඳුනාගත යුතු ආකාරය පැහැදිලි කරන්න.

Sandeepa Jayasekera - JMC

54

54

පිළිතුරු 08

බැඳීම	කාර්යසාධන බැඳීම	මිල	අයහාරය හඳුනාගැනීම
හිඟ්විත බැඳීම			

Sandeepa Jayasekera - JMC

55

55

පිළිතුරු 08

බැඳීම	කාර්යසාධන බැඳීම	මිල	අයහාරය හඳුනාගැනීම
සම්බන්ධිත බැඳීම			

Sandeepa Jayasekera - JMC

56

56

ප්‍රශ්න 09 - 2019 ප්‍රශ්න 43

SLFRS 15 අයහාරය ප්‍රමිතයට අනුව පහත දෑ සඳහන් කරන්න

ආයතනයක අයහාරය හඳුනාගත යුතු අවස්ථාව

ගනුදෙනුවක මිල නිර්වචනය කරන්න

57


57

ප්‍රශ්න 09 - 2020 ප්‍රශ්න 01(iv)

සමාගම විසින් භාණ්ඩ විකිණීමට සහ විකිණීමෙන් පසු පළමු මාස 6 තුළ නඩත්තු සේවා සැපයීම සඳහා 2020.03.01 දින ගනුදෙනුකරුවෙකු සමඟ ගිවිසුමකට එළඹෙන ලදී. ගිවිසුමේ මුළු ප්‍රතිෂ්ඨාව රු. 1 500 000 ක් වූ අතර, ඉන් රු. 1 000 000 ක් භාණ්ඩ විකුණුම් සඳහා වන අතර ඉතිරිය නඩත්තු සේවා සැපයීම සඳහා වේ. සමාගම විසින් ගිවිසුම මත එකඟ වූ සියලු භාණ්ඩ 2020.03.31 දින විකුණන ලද අතර ගිවිසුමේ මුළු ප්‍රතිෂ්ඨාවම මුදලින් ලැබී ඇත. මෙම මුළු වටිනාකම විකුණුම් තුළ ගිණුම් ගතකර ඇත.

58

58



59

Sandeepa Jayasekera - JMC


ප්‍රශ්න 10 - 2020 MCQ ප්‍රශ්න 44

SLFRS 15 (ගනුදෙනුකරුවන් සමඟ ගිවිසුම්වලින් අයහාරය) ප්‍රමිතයට අනුව පහත ප්‍රකාශ සත්‍ය ද (T) අසත්‍ය ද (F) යන්න සඳහන් කරන්න.

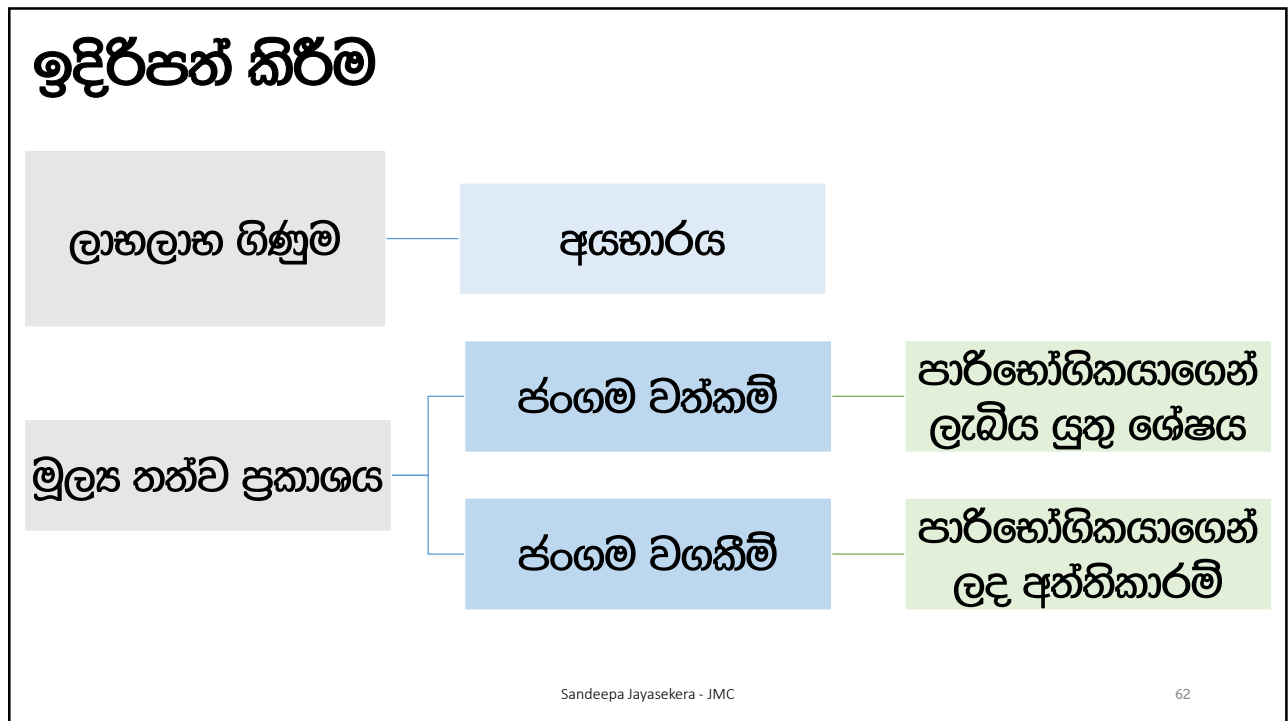
ප්‍රකාශය	සත්‍ය/අසත්‍ය
A - ගනුදෙනුකරුවෙකු සමඟ ඇතිවන ගිවිසුමක 'කාර්ය සාධන බැඳීමේ' ඇතුළත් විය හැක.
B - ව්‍යාපාර ආයතනයක අයහාරය සහ අනෙකුත් සියලු ආදායම් මෙම ප්‍රමිතයට අනුකූලව පමණක් මූල්‍ය ප්‍රකාශනවල හඳුනාගත යුතු ය.
C - ආයතනයක් විසින් ගිවිසුමක් මත අයහාරය හඳුනාගත යුත්තේ එම ගිවිසුමේ එක් එක් කාර්ය සාධන බැඳීමේ සපුරන ලද විට පමණි.
D - ආයතනයක් විසින් ගනුදෙනුකරුවෙකු වෙත පොරොන්දු වූ භාණ්ඩ හෝ සේවා හුවමාරුව වෙනුවෙන් හිමිකම් ලැබීමට අපේක්ෂිත ප්‍රතිෂ්ඨාවේ වටිනාකම ගනුදෙනුවක මිල වේ.

60

60



61



62

හෙළිදරව් කිරීම

ගිවිසුම් වත්කම්
සහ ගිවිසුම්
වගකීම්

ආරම්භක ශේෂ

අවසාන ශේෂ

බැඳීම් පිළිබඳ තොරතුරු

අයහාරය

විවිධ වර්ග වලින් ජනනය වූ අයහාරය

විනිශ්චයන්ගේ වෙනස්වීම්

විනිශ්චයන්

මිල බෙදා වෙන් කිරීම

අයහාරය හඳුනාගන්නා අවස්ථාව