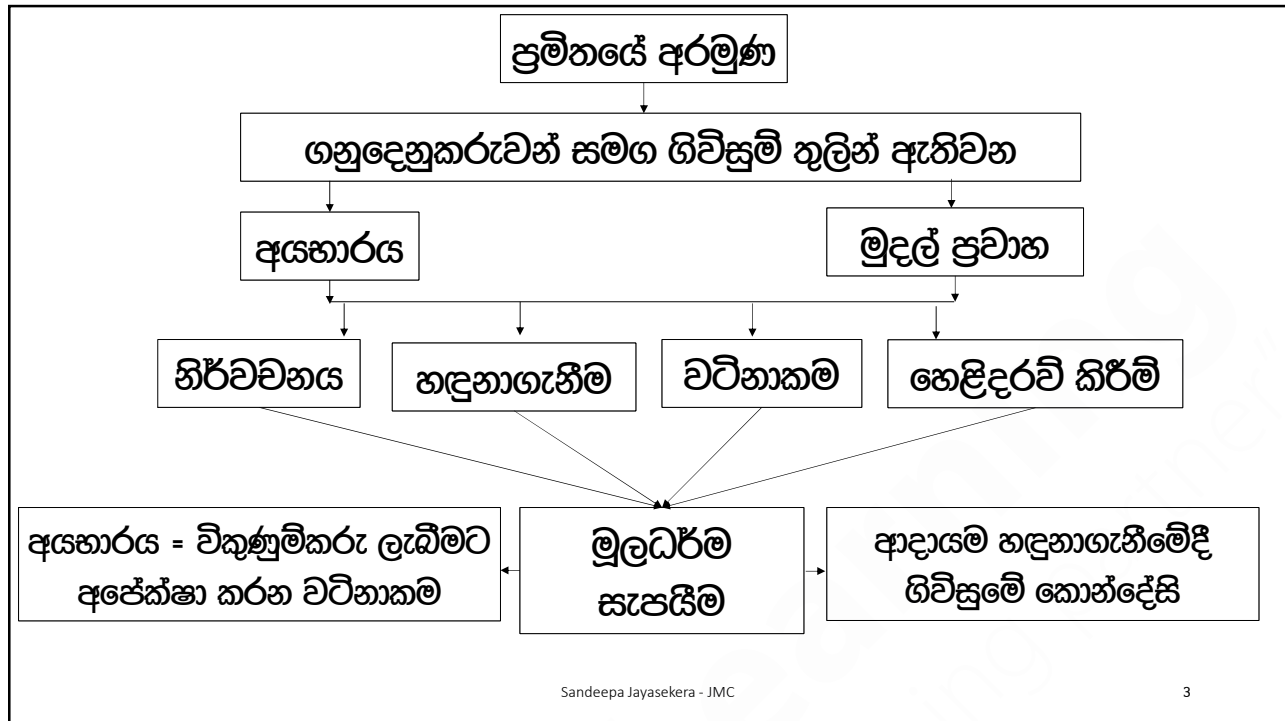
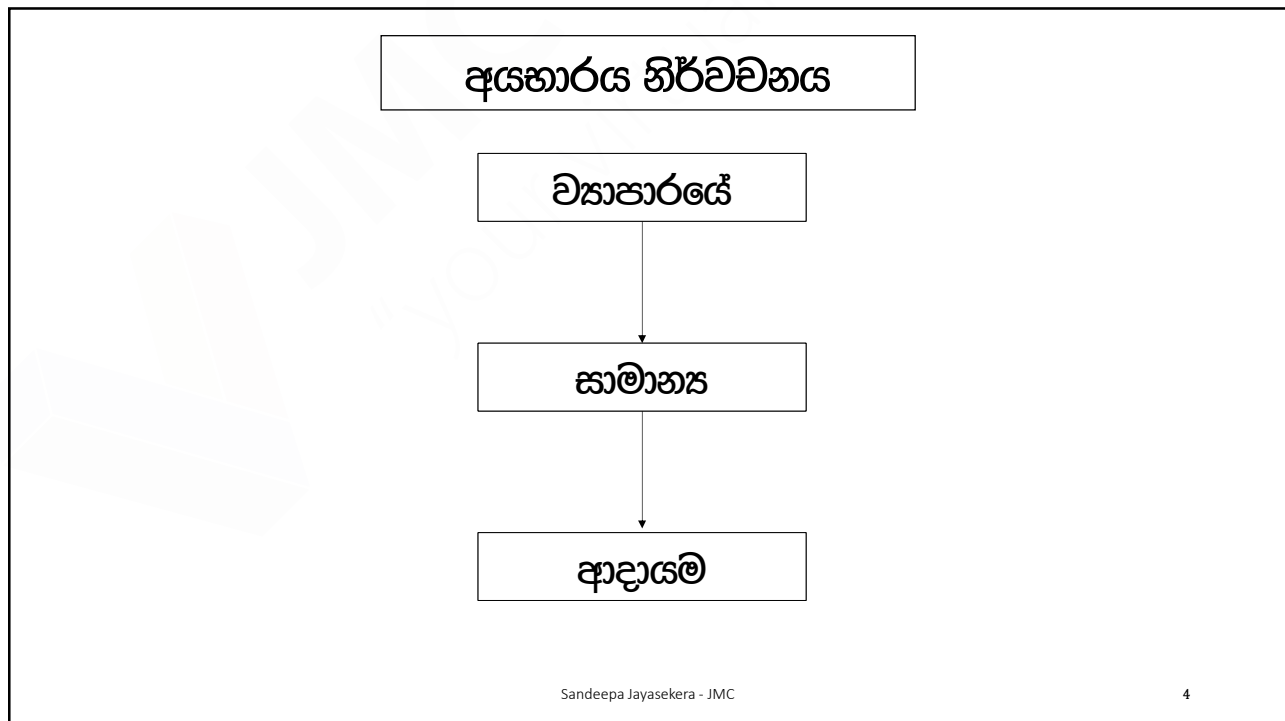


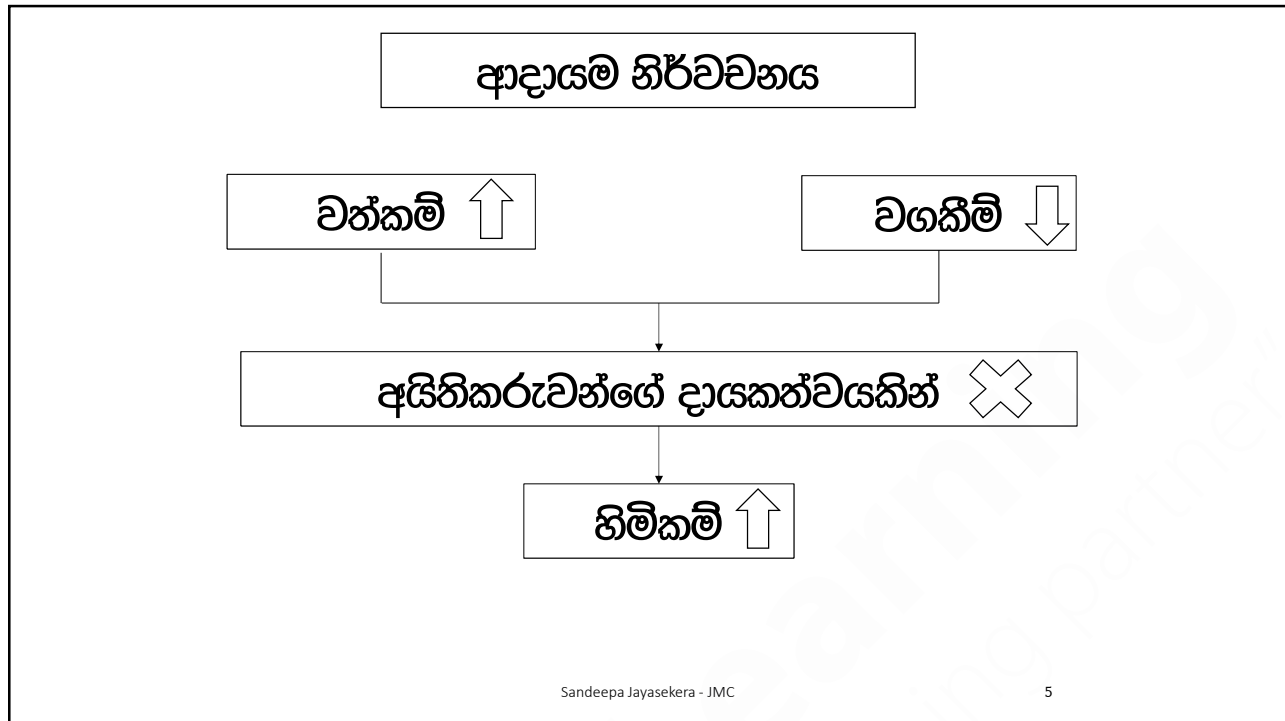
SLFRS 15 - ගනුදෙනුකරුවන් සමඟ ගිවිසුම් වලින් ඇතිවන අයහාරය



3



4



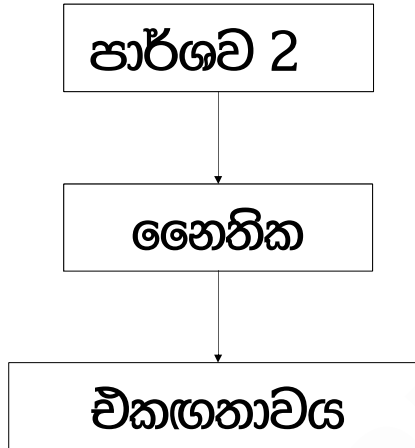
5

ගිවිසුම් තුළින් ඇතිවන ආදායම

Sandeepa Jayasekera - JMC 6

6

ගිවිසුමක් යනු

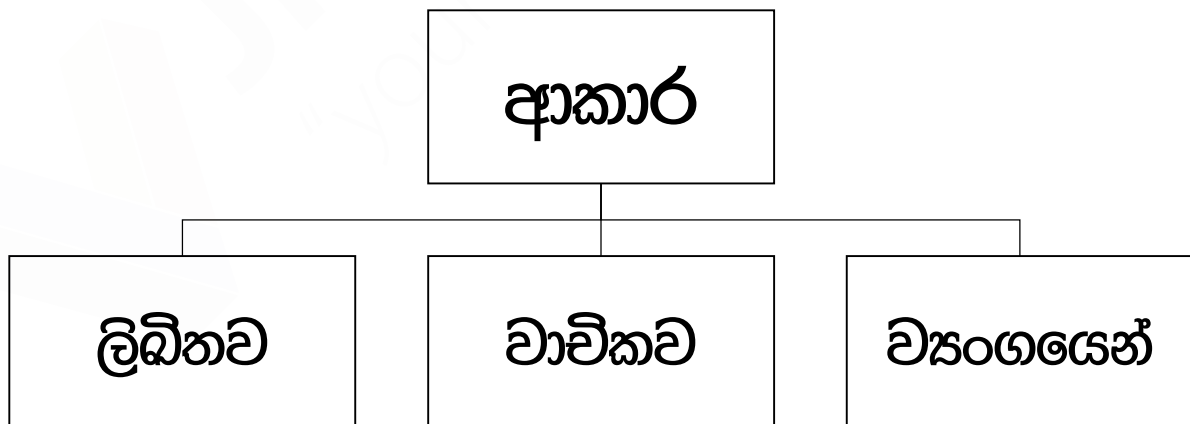


Sandeepa Jayasekera - JMC

7

7

ගිවිසුමක් ඇති විය හැකි ආකාර



Sandeepa Jayasekera - JMC

8

8

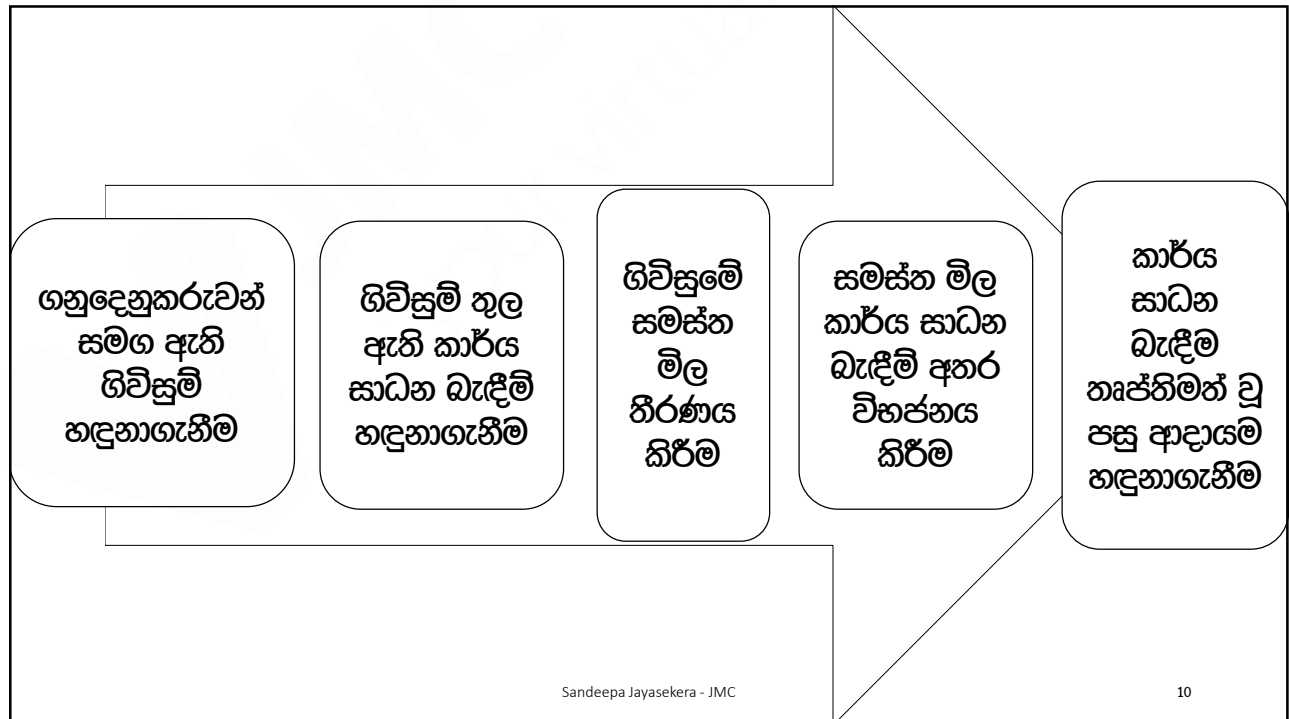
ආදායම හඳුනාගැනීම

පියවර 05 ආකෘතිය

Sandeepa Jayasekera - JMC

9

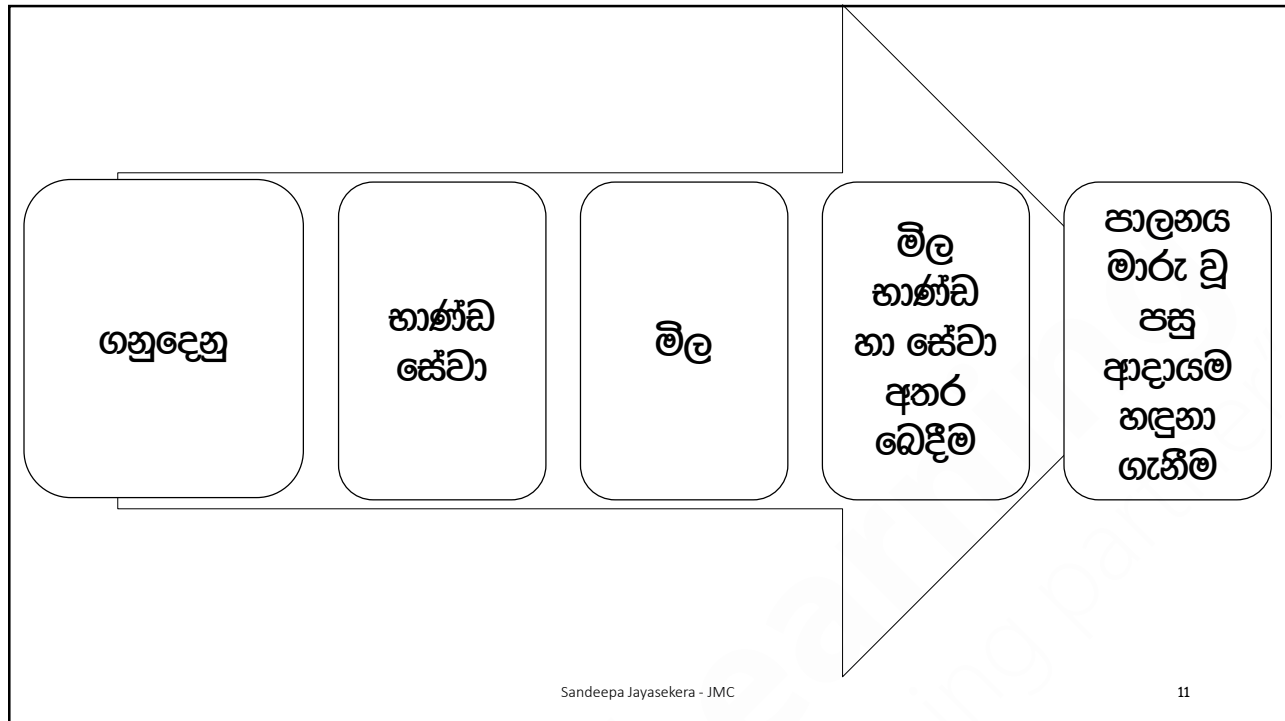
9



Sandeepa Jayasekera - JMC

10

10



11

ප්‍රශ්න 01

- DSI සමාගම පාසල් පාවහන් විකිණීමේ නියැලී සිටී. 2018/10/31 වන දින DSI සමාගම විසින් රු. 1,500 ක් වටිනා පාසල් පාවහන් යුගලයක් විකුණන ලදී.
- මෙම ගනුදෙනුවට අදාළ කාර්යසාධන බැඳීම සහ ආදායම හඳුනාගත යුතු ආකාරය පැහැදිලි කරන්න.

Sandeepa Jayasekera - JMC

12

12

පිළිතුරු 01

කාර්යසාධන බැඳීම	
මිල	
අයහාරය හඳුනාගැනීම	

Sandeepa Jayasekera - JMC

13

13

ප්‍රශ්න 02

- Idea සමාගම උපදේශන සේවාවන්ගේ නිරත වී සිටී. පසිඳු විසින් සිය ව්‍යාපාර කටයුතු සඳහා සය මාසික උපදේශන සේවාවක් සඳහා ගිවිසුම් අත්සන් තබන ලදී. උපදේශන සේවාවේ මිල ගණන රු. 600,000 ක් ලෙස තීරණය කරන ලදී.
- ඉහත ගිවිසුමට අදාළව කාර්යසාධන බැඳීම් සහ වියට අදාළ ආදායම හඳුනාගත යුතු ආකාරය පැහැදිලි කරන්න.

Sandeepa Jayasekera - JMC

14

14

පියවර 01

ගනුදෙනුකරු සමග ඇති ගිවිසුම් හඳුනාගැනීම

Sandeepa Jayasekera - JMC

15

15

පිළිතුරු 02

කාර්යසාධන බැඳීම	
මිල	
අයහාරය හඳුනාගැනීම	

Sandeepa Jayasekera - JMC

16

16

ශ්‍රී වික්‍රම හඳුනාගැනීමට සම්පූර්ණ විය යුතු නිර්ණායක	වාණිජමය හරය	ශ්‍රී වික්‍රම නිසා අනාගත මුදල්, අවදානම් වෙනස්වීම	
	අනුමත වීම	ලිඛිතව	
		වාචිකව	
		ව්‍යංගයෙන්	
	පාර්ශවයන්ගේ අයිතීන්	විකුණුම්කරු	මුදල්
		පාරිභෝගිකයා	භාණ්ඩ සේවා
	ගෙවීම් කොන්දේසි	ගෙවන වේලාව	
		වාරික	
		දඩ හෝ දිරිදීමනා	
	අය කරගැනීමේ හැකියාව		

17

17

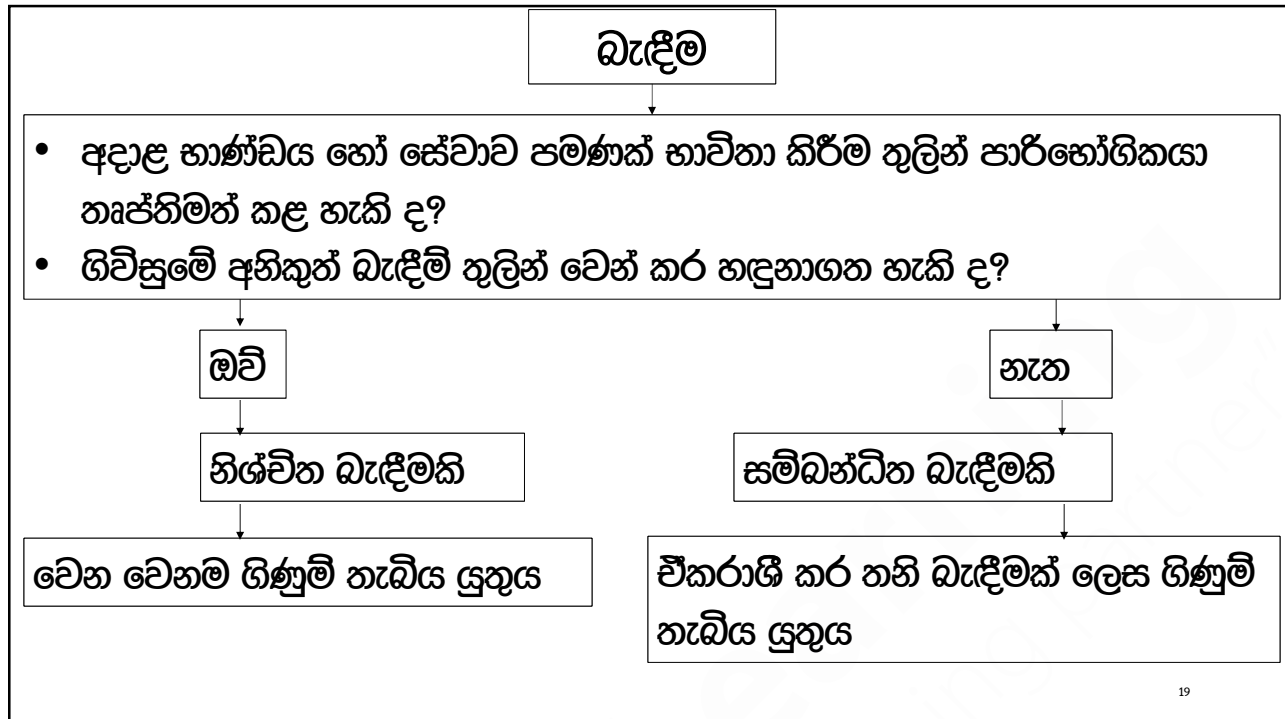
පියවර 2

සොරොන්දු වූ
භාණ්ඩ හෝ සේවාවන් හඳුනාගැනීම

Sandeepa Jayasekera - JMC

18

18



ප්‍රශ්න 03

රොසෙල් සමාගම ටයිල් විකිණීමේ නිරතව සිටී. 2021/01/01 වන දින රොසෙල් සමාගම විසින් රු 100,000/-ක් වටිනා ටයිල් නොගයක් විකුණන ලද අතර, එය සාර්භෝගිකයා වෙත ප්‍රවාහනය කර දීමටද අනිරේකව ඒකභවීය. ප්‍රවාහනය සඳහා රු 10,000/-ක් අය කරන ලදී.

- ඉහත ගනුදෙනුවට අදාළව කාර්යසාධන බැඳීම් හඳුනාගන්න
- එම බැඳීම් නිශ්චිත බැඳීම් ද සම්බන්ධිත බැඳීම් ද යන්න පැහැදිලි කරන්න

පිළිතුරු 03

බැඳීම	කාර්යසාධන බැඳීම	මිල	අයහාරය හඳුනාගැනීම
නිශ්චිත බැඳීම			
සම්බන්ධිත බැඳීම			

Sandeepa Jayasekera - JMC

21

21

ප්‍රශ්න 04

අධ්‍යක්ෂ සමාගම වායු සමීකරණ විකිණීමේ නියැලී සිටී. 2019/03/01 දින අධ්‍යක්ෂ විසින් වායු සමීකරණ අලෙවි ගනුදෙනුවකට චිලැම් අතර වී අනුව රු 1,000,000/- වටිනා වායු සමීකරණ විකිණීමටත්, එවා රු 10,000/-ක් අය කර පාරිභෝගිකයා වෙත ප්‍රවාහනය කර දීමටත්, රු 20,000/-ක් අය කර වසරක් නඩත්තු කරදීමටත් එකඟ විය.

- ඉහත ගනුදෙනුවට අදාළව කාර්යසාධන බැඳීම් හඳුනාගන්න
- එම බැඳීම් නිශ්චිත බැඳීම් ද සම්බන්ධිත බැඳීම් ද යන්න පැහැදිලි කරන්න
- මෙම ආදායම් හඳුනාගත යුතු ආකාරය පැහැදිලි කරන්න

Sandeepa Jayasekera - JMC

22

22

පිළිතුරු 04

බැඳීම	කාර්යසාධන බැඳීම	මිල	අයහාරය හඳුනාගැනීම
නිශ්චිත බැඳීම			
සම්බන්ධිත බැඳීම			

Sandeepa Jayasekera - JMC

23

23

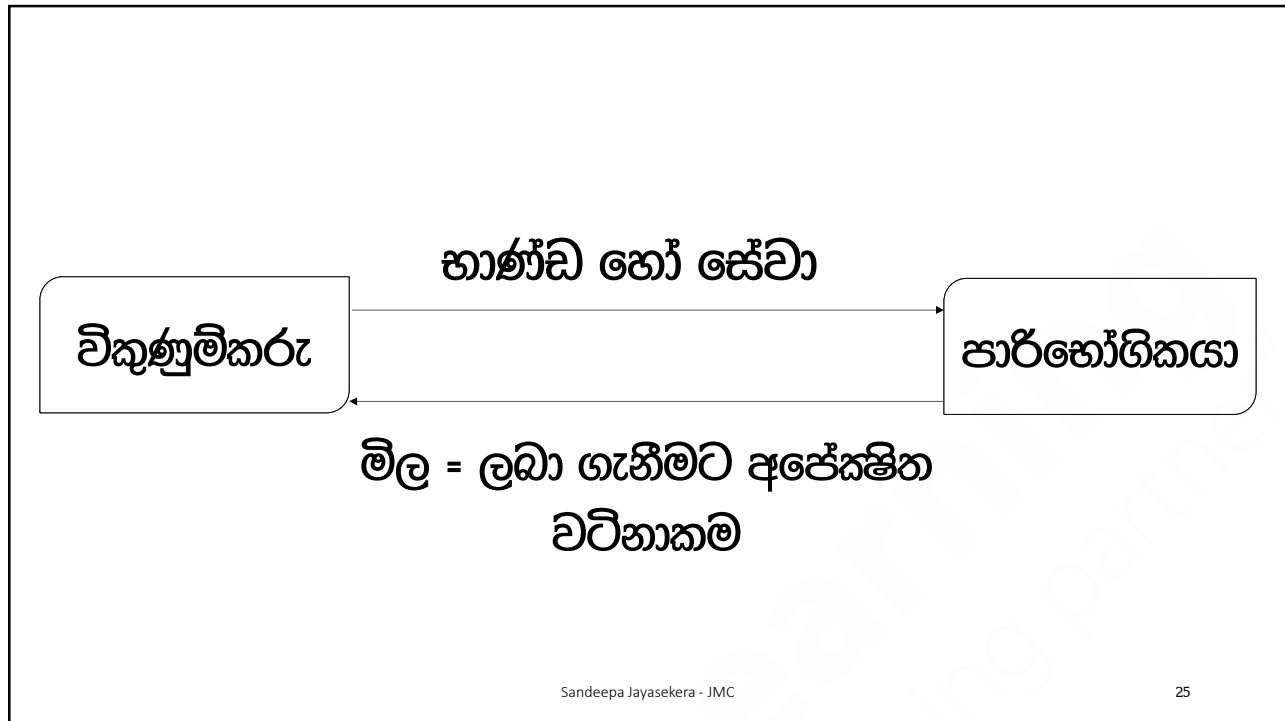
පියවර 3

ගනුදෙනුවෙහි මිල තීරණය
කිරීම

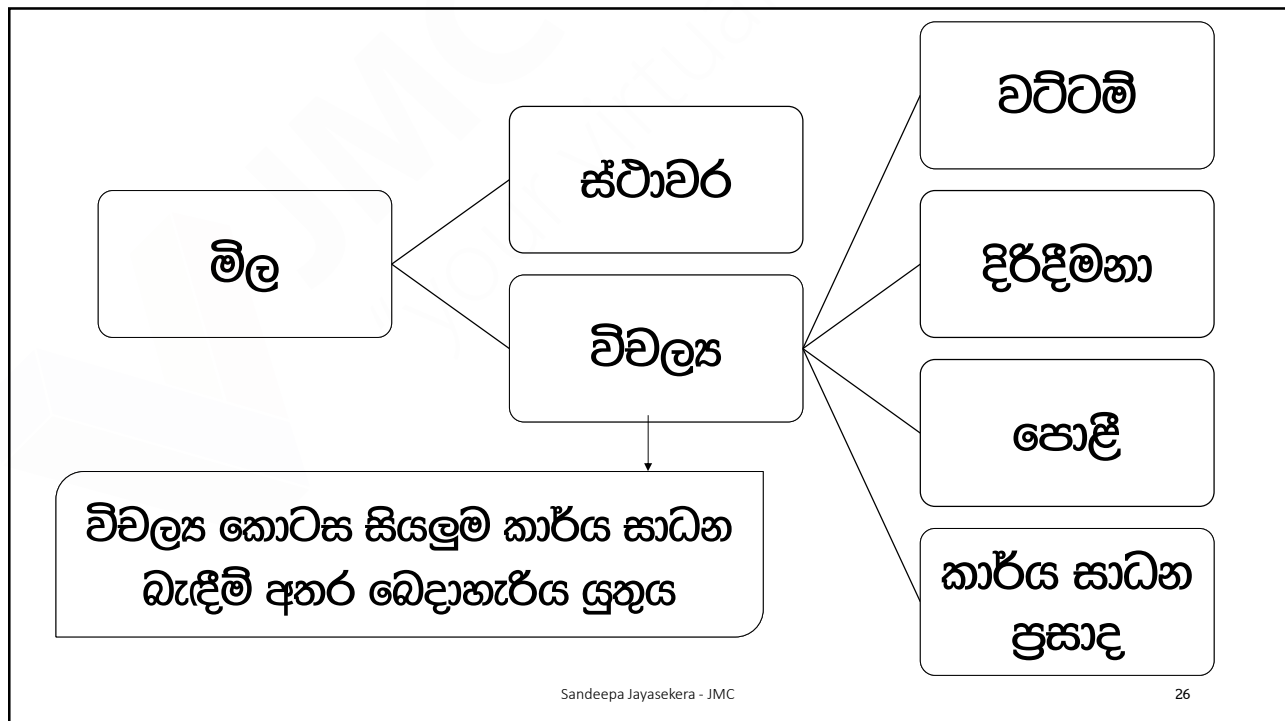
Sandeepa Jayasekera - JMC

24

24



25



26

ප්‍රශ්න 05

My Pc ආයතනය පරිගණක අලෙවියේ නියැලී සිටී. දමින් විසින් තම ව්‍යාපාරය සඳහා පරිගණක 10 ක් මිලදී ගැනීම සඳහා My Pc ආයතනය සමඟ ගිවිසුමකට එළඹියේය. එම ගිවිසුමට අනුව My Pc ආයතනය විසින් වසරක නඩත්තු කාලයක් සඳහා එකඟ විය.

එක් පරිගණකයක් රු. 100,000 ක් වූ අතර එක්වර පරිගණක 10 ක් මිලදී ගත් බැවින් 20% ක වට්ටමක් ලබා දෙන ලදී. නඩත්තු කාලයේ වටිනාකම රු. 250,000 ක් ද වේ.

- ඉහත ගනුදෙනුවට අදාළව කාර්ය සාධන බැඳීම් හඳුනාගන්න
- නිශ්චිත බැඳීම් සහ සම්බන්ධිත බැඳීම් වෙන් කරගන්න
- ඒ ඒ බැඳීම් සඳහා වටිනාකම් ගණනය කරන්න
- ආදායම හඳුනාගත යුතු ආකාරය පැහැදිලි කරන්න

Sandeepa Jayasekera - JMC

27

27

පිළිතුරු 05

බැඳීම්	කාර්යසාධන බැඳීම්	මිල	අයහාරය හඳුනාගැනීම
නිශ්චිත බැඳීම්			
සම්බන්ධිත බැඳීම්			

Sandeepa Jayasekera - JMC

28

28

ප්‍රශ්න 06

OIT සමාගම මෘදුකාංග නිෂ්පාදනය හා අලෙවියේ නියුක්ත සමාගමකි. ඔවුන් විසින් ගිණුම්කරණ මෘදුකාංගයක් නිර්මාණය කළ අතර මෙම මෘදුකාංගය අලෙවිය සඳහා රු. 1,000,000 ක් ද වසරක සේවා කාලය සඳහා රු.500,000 ක් ද අය කරයි. අලෙවිය සහ සේවා කාලය යන දෙකම ලබාගන්නේ නම් රු.1,200,000 ක් අය කෙරේ.

- සමන් විසින් මෘදුකාංගය සහ අලෙවියෙන් පසු සේවාව යන දෙකම ලබා ගන්නා ලදී. මෙම ගනුදෙනුවට අදාළ කාර්යසාධන බැඳීම්, ඒ ඒ බැඳීමේ වටිනාකම වටිනාකම සහ ආදායම හඳුනාගත යුතු ආකාරය පැහැදිලි කරන්න.

Sandeepa Jayasekera - JMC

29

29

පිළිතුරු 06

බැඳීම්	කාර්යසාධන බැඳීම්	මිල	අයහාරය හඳුනාගැනීම
නිශ්චිත බැඳීම්			
සම්බන්ධිත බැඳීම්			

Sandeepa Jayasekera - JMC

30

30

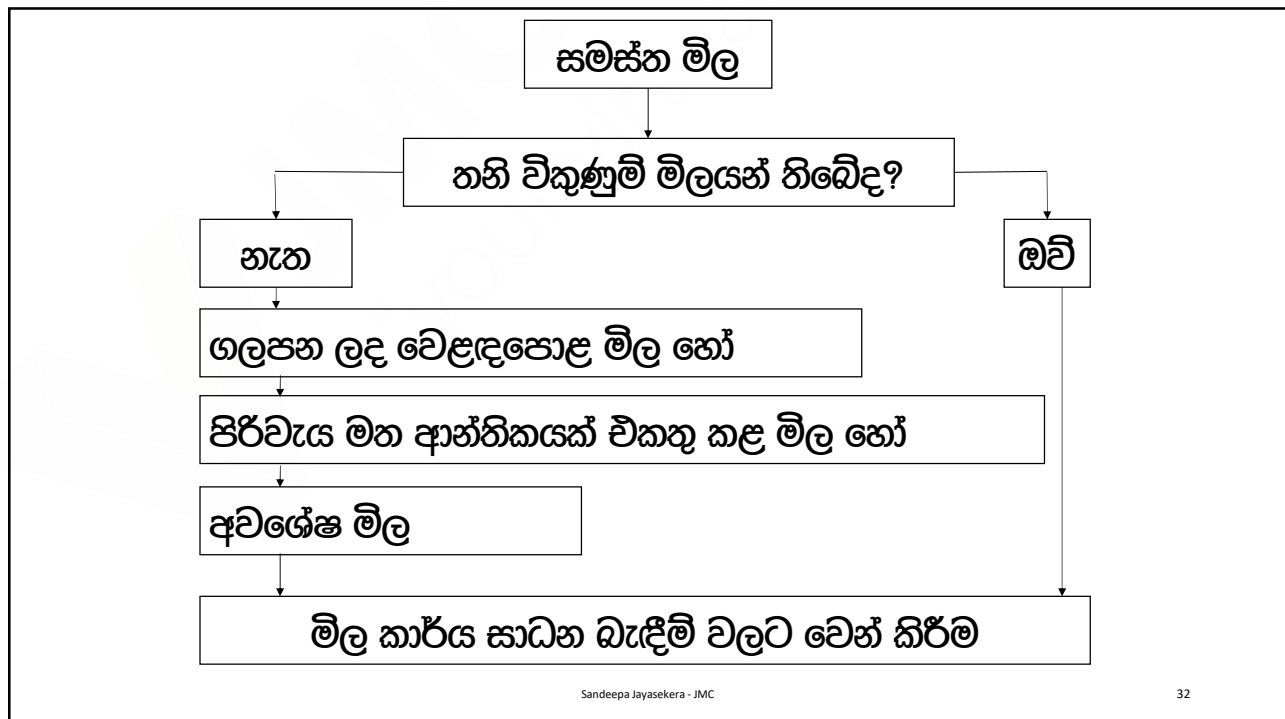
පියවර 4

ගනුදෙනුවෙහි මිල කාර්යසාධන බැඳීමිචලට බෙදා වෙන් කිරීම

Sandeepa Jayasekera - JMC

31

31



Sandeepa Jayasekera - JMC

32

32

තනි විකුණුම් මිල යනු

භාණ්ඩය හෝ සේවාව

වෙන වෙනම විකුණන්නේ නම්

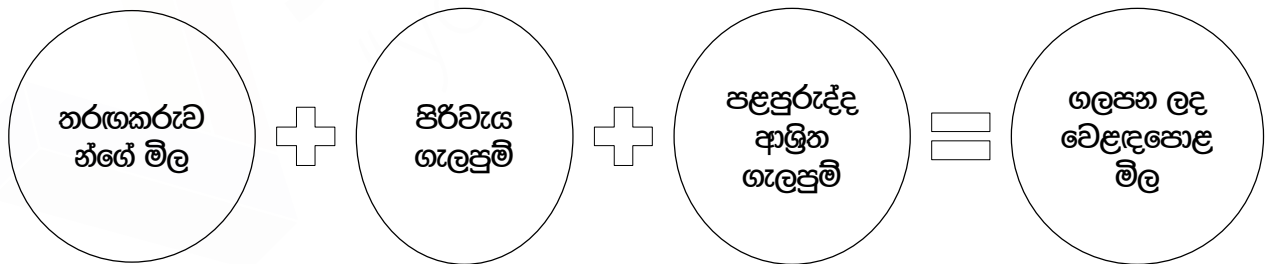
අය කරන මිල

Sandeepa Jayasekera - JMC

33

33

ගැලපුම් කරන ලද වෙළඳපල තක්සේරු ප්‍රවේශය

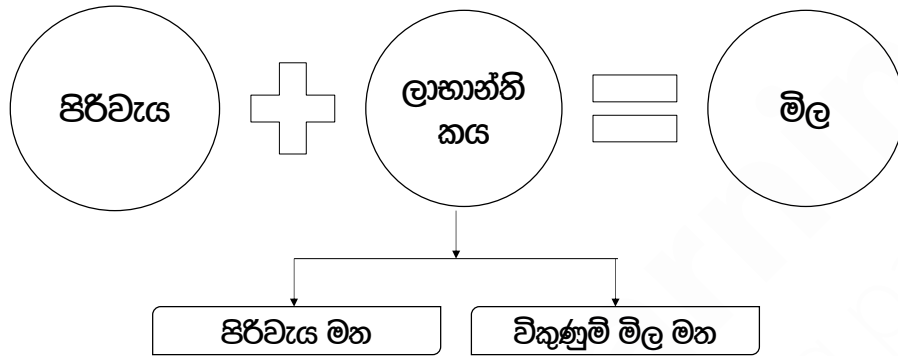


Sandeepa Jayasekera - JMC

34

34

අපේක්ෂිත පිරිවැයට ආන්තිකයක් එකතු කළ ප්‍රවේශය



Sandeepa Jayasekera - JMC

35

35

අවශේෂ ප්‍රවේශය

(මෙය භාවිතා කළ හැකි වන්නේ සීමිත අවස්ථාවන් වලදී පමණි)

- සමස්ත විකුණුම් මිල
- තනි විකුණුම් මිල
- ගලපන ලද විකුණුම් මිල
- පිරිවැය මත ලාභාන්තිකයක් එකතු කළ මිල
- අවශේෂ මිල

Sandeepa Jayasekera - JMC

36

36

ප්‍රශ්න 07

JMC ආයතනය අධ්‍යාපන සේවා ලබාදීමේ නිරත වී සිටී. පහත පාඨමාලාවන් සඳහා කාර්යසාධන බැඳීම්, කාර්යසාධන බැඳීම් වල මිල ගණන් සහ ආදායම හඳුනාගත යුතු ආකාරය පැහැදිලි කරන්න. ව්‍යාපාරික ඉංග්‍රීසි පාඨමාලාව

පාඨමාලා කාලය මාස 04 ක් වන අතර සමස්ත අය කිරීම රු. 15,000 ක් වේ. පාඨමාලා කාලය තුළ දේශන දායකත්වය, ශාලා පහසුකම්, රු. 1,000 ක් වෙළඳපොල මිල වන නිබන්දනය, එක් දින ප්‍රායෝගික පුහුණු වැඩමුච්චි, ක්‍ෂේත්‍ර වාරිකාව යනාදිය ඇතුළත් වේ. එක්දින ප්‍රායෝගික වැඩමුච්චි සහ ක්‍ෂේත්‍ර වාරිකාවට පමණක් සම්බන්ධ වන්නේ නම් රු. 3,000 ක් හා රු. 4,000 ක් අය කෙරේ වරලත් ගණකාධිකරණ පාඨමාලාව

මාසික පාඨමාලා ගාස්තුව රු. 2,500 ක් වන අතර සමස්ත පාඨමාලා කාලය මාස 06 ක් වේ. පාඨමාලා කාලය තුළ දේශන දායකත්වය, ශාලා පහසුකම් සහ නිබන්දන ලබා දීමට JMC ආයතනය කටයුතු කරයි. නිබන්දන කට්ටලය සඳහා රු. 2,000 ක පිරිවැයක් වැය වන අතර JMC ආයතනය 15% ක ලාභ ප්‍රතිශතයක් අපේක්‍ෂා කරයි.

Sandeepa Jayasekera - JMC

37

37

පිළිතුරු 07

බැඳීම්	කාර්යසාධන බැඳීම්	මිල	අයහාරය හඳුනාගැනීම
නිශ්චිත බැඳීම්			
සම්බන්ධිත බැඳීම්			

Sandeepa Jayasekera - JMC

38

38

පියවර 5

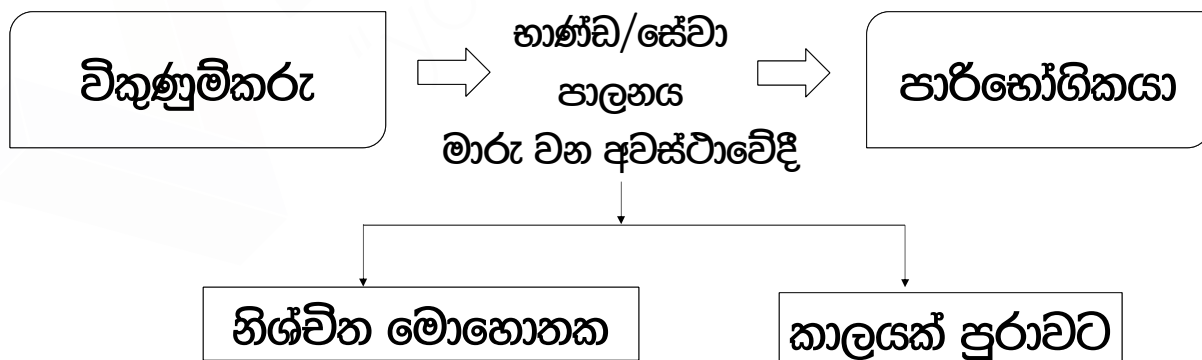
කාර්යසාධන බැඳීම තෘප්තිමත් වූ පසු අයහාරය හඳුනා ගැනීම

Sandeepa Jayasekera - JMC

39

39

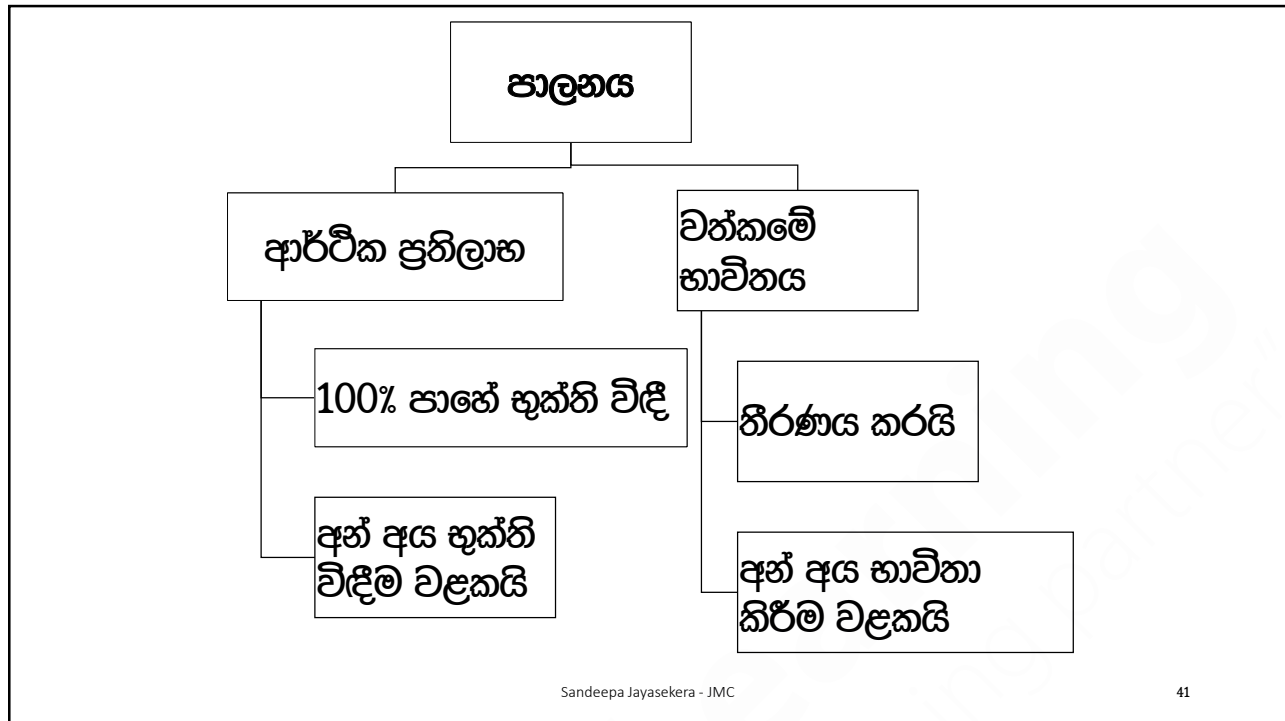
ආදායම හඳුනාගත යුත්තේ කුමන අවස්ථාවේදී?



Sandeepa Jayasekera - JMC

40

40



41

පාලනය මාරු වීම	නිශ්චිත මොහොතක	භෞතික සන්නකය මාරු වීම
		පාරිභෝගිකයා වත්කම පිළිගෙන තිබීම
		අවදානම් සහ ප්‍රතිලාභ මාරු වීම
		තෛතික අයිතිය මාරු වීම
	කාලයක් පුරාවට	භාණ්ඩ/සේවා ලබා දීම සහ පරිභෝජනය එකවර සිදුවීම
		වත්කම පාරිභෝගිකයාගේ පාලනය තුළ පැවතීම
		විකල්ප භාවිත නොමැති වීම සහ ගෙවීම් ලබාගැනීමට අයිතියක් පැවතීම

Sandeepa Jayasekera - JMC 42

42

ප්‍රශ්න 08

නාමල් සමාගම මෘදුකාංග නිර්මාණයේ නියැලී සිටී. චතුර සමාගම විසින් සිය ආයතනයේ වැටුප් පිළියෙල කිරීම සඳහා මෘදුකාංගයක් නැතිමට නාමල් සමාගම සමඟ ගිවිසුමකට එළඹන ලදී. එම ගිවිසුමට අනුව මෘදුකාංගය නිර්මාණය කිරීම, දෘඩාංග මිලදී ගැනීම, සේවකයන් පුහුණු කිරීම සහ වසරක සේවා කාලයක් ලබා දීමට නාමල් සමාගම එකඟ විය.

සමස්ත මෘදුකාංග ගිවිසුමේ වටිනාකම රු. 1,000,000 ක් විය. නාමල් සමාගම මෙම සේවාවන් වෙත වෙනම ලබා දෙන්නේ නම් වෙළඳපොල මිල ගණන් පහත පරිදි වේ.

Sandeepa Jayasekera - JMC

43

43

ප්‍රශ්න 08

මෘදුකාංගය නිර්මාණය කිරීම	400,000
දෘඩාංග මිලදී ගැනීම	400,000
සේවකයන් පුහුණු කිරීම	100,000
සේවා කාලය වසරක් සඳහා	100,000

මෙම සමාගම 2021/01/01 දින මෘදුකාංගය නිර්මාණය කිරීම ආරම්භ කරන ලද අතර එය 2021/03/01 දින වන විට අවසන් විය. 2021/03/05 වන දින දෘඩාංග මිලදී ගත් අතර මෘදුකාංග ඇතුළත් කරන ලද දෘඩාංගයක් 2021/03/15 වන දින චතුර සමාගමේ කාර්යාලය තුළ ස්ථාපනය කරන ලදී. එදින සිට පුරා සතියක් සේවකයන් පුහුණු කළ අතර 2021/03/22 සිට 2022/03/22 තෙක් වසරක කාලය සඳහා සේවා පහසුකම් ලබා දීමට එකඟ වන ලදී. කාර්යසාධන බැඳීමි, කාර්යසාධන බැඳීමි වල මිල ගණන් සහ ආදායම හඳුනාගත යුතු ආකාරය පැහැදිලි කරන්න.

Sandeepa Jayasekera - JMC

44

44

පිළිතුරු 08

බැඳීම	කාර්යසාධන බැඳීම	මිල	අයහාරය හඳුනාගැනීම
නිශ්චිත බැඳීම			

Sandeepa Jayasekera - JMC

45

45

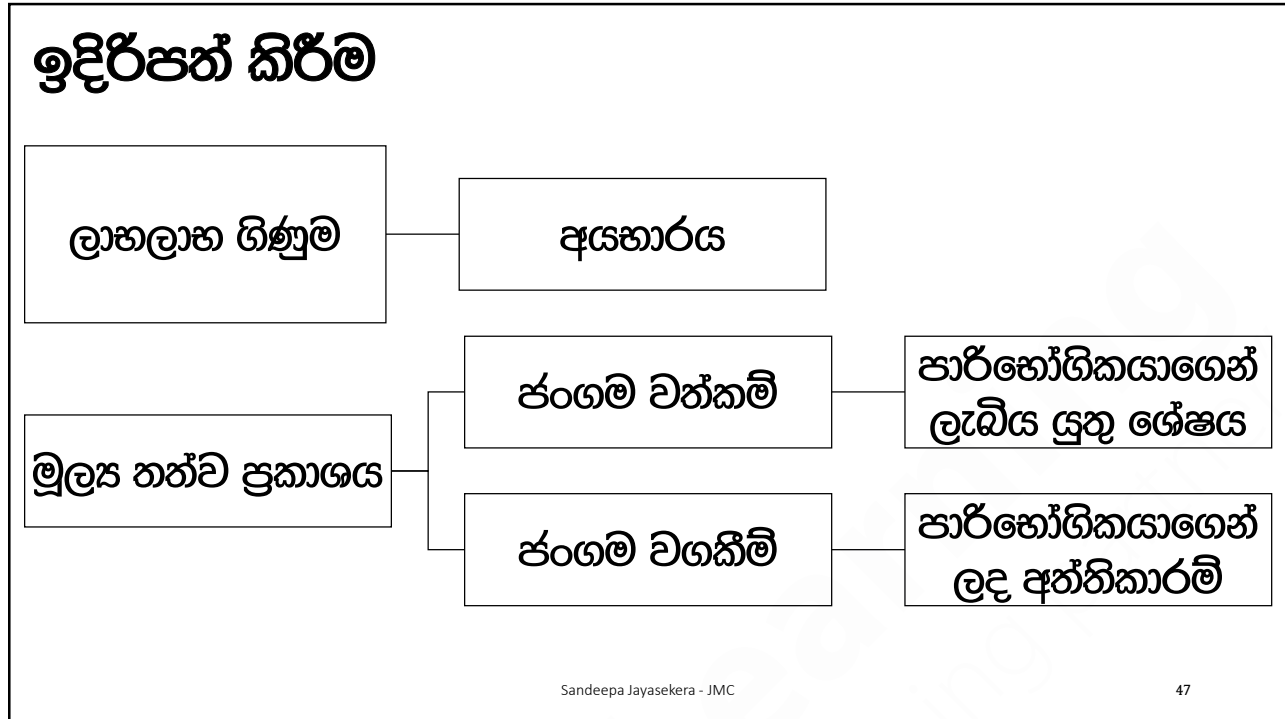
පිළිතුරු 08

බැඳීම	කාර්යසාධන බැඳීම	මිල	අයහාරය හඳුනාගැනීම
සම්බන්ධිත බැඳීම			

Sandeepa Jayasekera - JMC

46

46



47



48